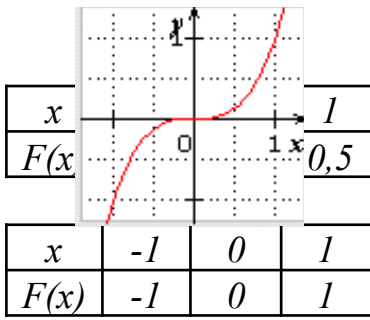
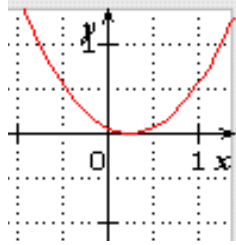


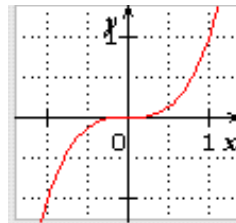
أرفق التمثيل البياني بجدول القيم المناسب.



$x$	$-0,5$	$0,25$	$1$
$F(x)$	$0,5$	$0$	$0,5$



$x$	$-1$	$0$	$1$
$F(x)$	$-1$	$0$	$1$



الحل :