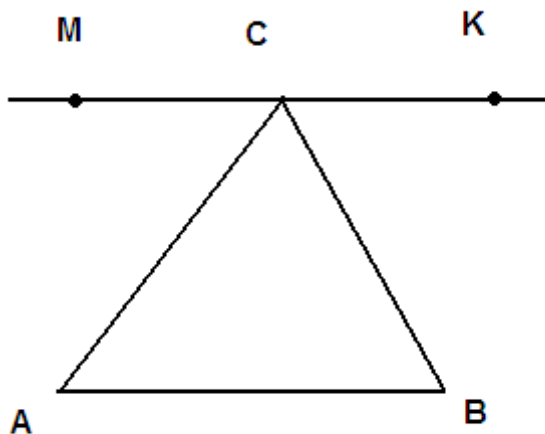
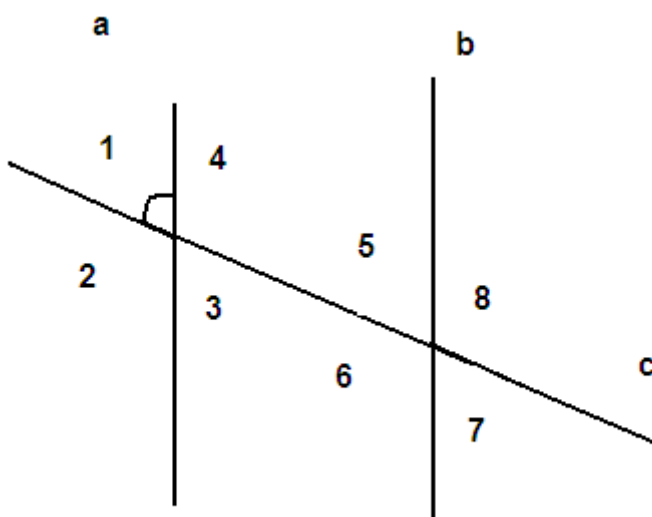


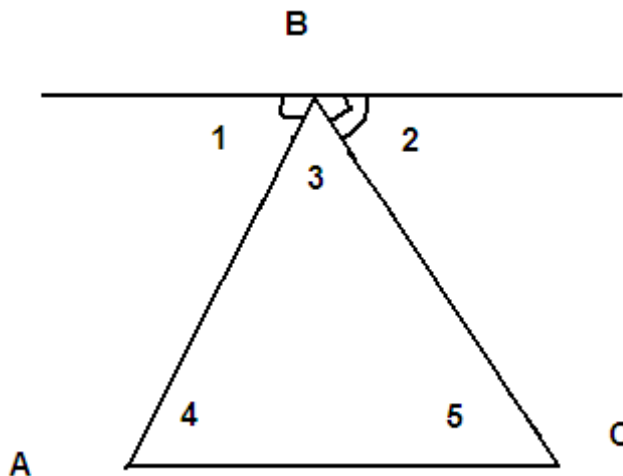
Актуализация знаний. (устно)



- Назовите пару односторонних углов.
- Назовите пару накрест лежащих углов.



- Найдите все углы, если a параллельна b и угол 1 равен 70° .



- Найдите углы 3,4,5, если AC параллельна t и угол 1 равен 60° , Угол 2 равен 50° .